

1. Разделите слова на слоги



ЧАСЫ



РЫБА



САМОЛЁТ



ЯГОДА



УТКА



ЛЯГУШКА



САМОВАР



ДЕРЕВО



ВАЗА



КОРЗИНА



ЯБЛОКО



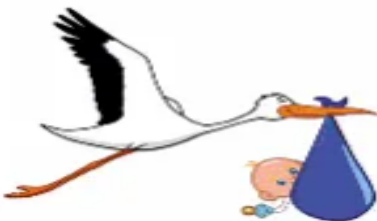
СОБАКА

2. Звуковой анализ слова



--	--	--	--	--

--	--	--	--	--



--	--	--	--

3. Придумай предложение к схеме



_____.



_____.



_____.



_____.



_____.





_____.



_____.

2+2

Рассмотри рисунки. Придумай вопросы к задачам. Напиши карандашом решение и ответ.



$$\square \quad \square = \square$$

Ответ:

$$\square \quad \square = \square$$

Ответ:

2+2

Реши примеры. Работай карандашом.

$$8 + 1 = \square$$

$$6 + 3 = \square$$

$$1 + 8 = \square$$

$$3 + 6 = \square$$

$$7 + 2 = \square$$

$$5 + 4 = \square$$

$$2 + 7 = \square$$

$$4 + 5 = \square$$

