

■ Посади бабочек на цветы.



Проверь: МУХА, НЕБО, ЛЕТО, УТРО.

Подели схемы слов вертикальной чертой на слоги. Посчитай, сколько слогов в каждом слове.



ЧАСЫ



РЫБА



САМОЛЁТ



ЯГОДА



УТКА



ЛЯГУШКА



САМОВАР



ДЕРЕВО

• Продолжи строчки.



■ Кто в каком вагоне поедет?


Подсказка: окошек в каждом вагоне столько, сколько слогов в слове — названии животного.




ЧЕРЕПАХА



ПИНГВИН



КЕНГУРУ




СЛОН


2+2

Реши задачи. Работай карандашом.

У Димы 5



У Саши на 2 меньше.



Сколько у Саши?



$$\square \quad \square = \square$$

Ответ: флажков.

2+2

Найди разность чисел. Работай карандашом.

$$7 - 3 = \square$$

$$13 - 3 = \square \square$$

$$9 - 2 = \square$$

$$19 - 2 = \square \square$$

$$8 - 6 = \square$$

$$18 - 1 = \square \square$$

$$5 - 4 = \square$$

$$16 - 1 = \square \square$$