
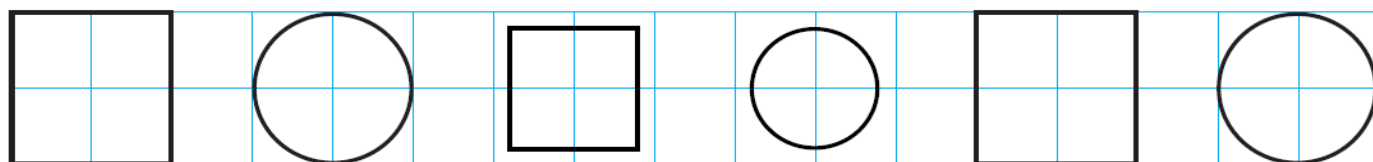


5. Обведи линии.



Нарисуй карандашом в кругах квадраты, а в квадратах — круги.



2+2

Реши примеры. Расшифруй слово. Работай карандашом.

$3 + 4 = \text{К}$

$2 + 4 = \text{О}$

$9 - 7 = \text{Я}$

$9 - 6 = \text{Л}$

$4 + 4 = \text{Б}$

2

8

3


6

7


6




Нарисуй карандашом стрелки так, чтобы часы показывали нужное время.




4 часа



8 часов



12 часов



3 часа



Подбери как можно больше слов-действий к заданному слову.

Например: Что может делать заяц? Скакать, грызть морковку, играть на поляне, сидеть у пенька, выступать в цирке и т. д.



ВОЛК

СОБАКА

СОЛНЦЕ



ВЕТЕР

МОРЕ

КОШКА









$7 + 2 = \square$

$5 + 4 = \square$

$9 - 3 = \square$

$4 + 4 = \square$

$10 - 1 = \square$

$2 + 8 = \square$

$3 + 7 = \square$

$1 + 6 = \square$

$10 - 2 = \square$

$6 + 2 = \square$

$5 + 3 = \square$

$8 - 4 = \square$

$2 + 7 = \square$

$9 - 5 = \square$

$1 + 6 = \square$

$4 + 2 = \square$

$7 - 2 = \square$

$8 + 2 = \square$

$9 - 6 = \square$

$5 + 1 = \square$

$10 - 4 = \square$

$5 + 3 = \square$

$8 - 2 = \square$

$3 + 4 = \square$

$8 - 5 = \square$

$10 + 0 = \square$

$7 - 4 = \square$

$3 + 6 = \square$

$7 - 2 = \square$

$10 - 0 = \square$

$6 + 3 = \square$

$7 + 2 = \square$

$10 - 5 = \square$

$3 + 3 = \square$

$8 - 1 = \square$

$4 + 2 = \square$

$9 - 3 = \square$

$2 + 7 = \square$

$10 - 6 = \square$

$6 + 2 = \square$